

KLASA 3



Olimpiada



IMIĘ

Grid for name

NAZWISKO

Grid for surname

SESJA WIOSENNA

Oddział

Box for class

A

B

C

D

E

F

G

H

I

J

Nr dziennika

Box for journal number

0 0

1 1

2 2

3 3

4 4

5 5

6 6

7 7

8 8

9 9

Kod szkoły

Box for school code

0 0 0 0 0

1 1 1 1 1

2 2 2 2 2

3 3 3 3 3

4 4 4 4 4

5 5 5 5 5

6 6 6 6 6

7 7 7 7 7

8 8 8 8 8

9 9 9 9 9

UWAGA! Swoje odpowiedzi zaznacz poprzez zamalowanie kółeczka. Prawidłowy sposób zaznaczania to: ●

Dziadek Michała był kiedyś żołnierzem i postanowił opowiedzieć swojemu wnukowi o wielkim Polaku Józefie Piłsudskim. Michał dowiedział się, że w tysiąc siedemset dziewięćdziesiątym piątym roku Polska utraciła wolność. Jej sąsiedzi, Rosja, Prusy i Austria podzielili polską ziemię pomiędzy siebie. Przez 123 lata niewoli Polacy odważnie walczyli z zaborcami, organizując powstania. Dopiero w czasie I wojny światowej Legiony Polskie utworzone przez Józefa Piłsudskiego wywalczyły naszej ojczyźnie wolność.

1. Dziadek chłopca był kiedyś:

- strażakiem, żołnierzem, powstańcem, zaborcą

2. Michał dowiedział się, że Polska utraciła wolność:

- w 1795 roku, w 1918 roku, w 1750 roku, w 1790 roku

3. Józef Piłsudski:

- utworzył Legiony Polskie, walczył w I wojnie światowej, walczył o wolność Polski, po 123 latach wywalczył Polsce wolność

4. Zaborcy, którzy podzielili polskie ziemie, to:

- Rosja, Niemcy, Austria; Rosja, Prusy, Austria; Niemcy, Rosja, Czechy; Rosja, Prusy, Czechy

5. Słowo ZABORCA oznacza:

- rodzica, który zabrania czegoś; państwo, które zagarnęło przemocą cudze terytorium; sąsiada

Zamaluj kółeczko przy słowniku, w którym sprawdzisz znaczenie słowa zaborca.

Grid for dictionary selection



7. Rozwiąż rebus.

11 ście = sty



Rozwiązaniem rebusu jest data:

- 11 listopad, 11 listopada, 11 XI, XI XI

8. Zamaluj kółeczko przy nazwach rzeczy w rodzaju nijakim.

Box for desk



Box for girl



Box for chair



Box for bed



Box for lamp



Box for computer



9. Uzupełnij zasady ortograficzne.


Wymienia się na „sz” (h, rz, ch)

Wymienia się na „z” (h, rz, ch)

Piszemy po literze „s” (h, rz, ch)

Piszemy po literze „l” (h, ż, rz)

10. Zamaluj kółeczka przy nazwach rzeczy, które kryją w sobie „ch”.



11. Uzupełnij tytuły wierszy małą lub wielką literą. Zamaluj odpowiednie kółeczka.

- a) „Ptasie ...adio” r R
 b) „Staś ...ytalski” p P
 c) „Słoń ...rąbalski” t T


Przypisz tytuły wierszy do autora.

- Jan Brzechwa a b c
 Julian Tuwim a b c

12. Zamaluj kółeczko przy zdaniach opisujących ssaki.

- Ich ciała pokryte są sierścią.
 Mają 2 lub 4 nogi.
 Większość z nich fruwa.
 Wykluwają się z jaj.
 Po urodzeniu żywią się mlekiem matki.

13. Runo to jedno z pięter lasu. Zamaluj kółeczka przy roślinach, które występują w tej warstwie.



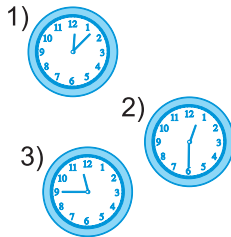
14. Przeczytaj zadanie i dopasuj zegary do zdarzeń.

Jest siedem po dwunastej. Za kwadrans i osiem minut będzie koniec lekcji. Lekcja trwa 45 minut.

Rozpoczęcie lekcji. 1 2 3

Zakończenie lekcji. 1 2 3

Obecna godzina. 1 2 3



15. Jeżeli dziś jest 1 maja i jest niedziela, to za tydzień i 2 dni będzie:

- wtorek 10 V niedziela 14.05
 niedziela 8 V wtorek 10.05

42 dni to:

- 4 tygodnie kwartał
 6 tygodni miesiąc

16. Dobierz odpowiednie jednostki miary.

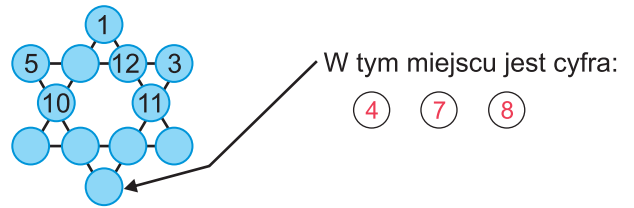
Wysokość drzwi to 210 dm cm m

Samochód ma długość 5 dm cm m

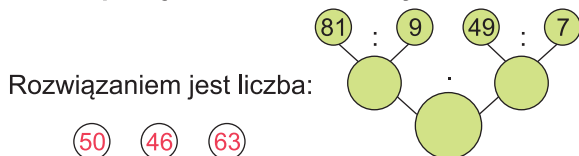
Most ma długość 2 dm m km

Głębokość komody wynosi 4 dm m km

17. W puste miejsca w grafie wpisz cyfry: 2, 4, 6, 7, 8, 9 tak, aby suma liczb na każdej linii wynosiła 26.



18. Uzupełnij drzewko matematyczne.



19. Od sumy liczb 32 i 64 odejmij różnicę 96 i 32.


Wynik to: 32 62 66

20. Które odważniki należy postawić na wadze, aby zważyć produkty?



21. Odczytaj z ilustracji wiek pana Kowalskiego i oblicz wiek pozostałych osób.

- Piotr jest 9 razy młodszy niż pan Kowalski.
- Cztery lata temu Kuba miał tyle lat, ile Piotr ma teraz.
- Duża Ola jest 3 razy starsza od Kubę.
- Mała Ola jest o 6 lat młodsza od Kubę.



Prawdą jest, że:

- Piotr ma 9 lat. Kuba ma 12 lat.
 Duża Ola ma 36 lat. Mała Ola ma 7 lat.